

达标测试卷

题号	一	二	三	四	五	六	七	八	九	十	十一	总分
得分												

一、算一算。(21 分)

$80+20=100$

$95-9=86$

$48+3=51$

$52-6=46$

$46+30=76$

$55-40=15$

$7+50=57$

$2+35=37$

$15-7=8$

$70+2=72$

$50+50=100$

$40+30=70$

$48-40+21=29$

$36-7+50=79$

$74-30+50=94$

$70+30-80=20$

$48-8+10=50$

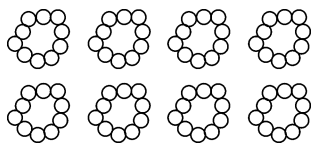
$100-30+1=71$

$55+7-9=53$

$60-2+7=65$

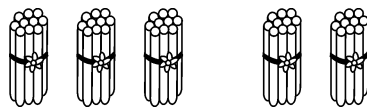
$30+16+8=54$

二、看图填一填。(每空 1 分,共 4 分)



$40+40=(80)$

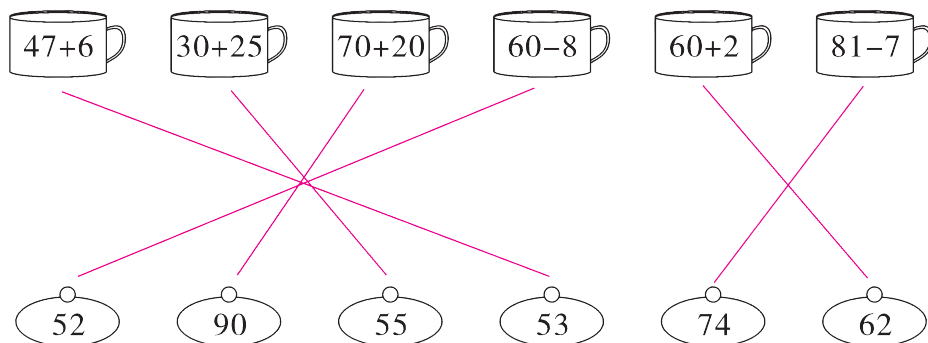
$80-40=(40)$



$30+20=(50)$

$50-20=(30)$

三、哪个茶杯和茶盖是一套? 连一连。(6 分)



四、比大小。(6分)

$37+4$	$<$	$37+40$	$82-2$	$>$	$82-20$	$4+35$	$<$	$3+45$
$47-8$	$<$	$48-7$	$27+20$	$<$	$87-30$	$66+30$	$<$	$100-1$

五、按要求把算式填在相应的圈里。(4分)

$37+20$

$4+48$

$74-10$

$47+20$

$81-30$

$11+50$

$86-20$

$22+30$

得数是五十多的算式

得数是六十多的算式

$37+20, 4+48,$
 $81-30, 22+30$

$74-10, 47+20,$
 $11+50, 86-20$

六、看图列式计算。(每题3分,共6分)



35只

$35 - 8 = 27$ (只)



37个

$37 - 9 = 28$ (个)

七、帮小动物找到它的车厢,连一连。(9分)



$21-4$



$66-6$



$23+8$



$55+30$



$99-70$

得数十个位、位上的数相差4	得数的个位上是5	得数最小	得数在40~50之间	得数最大	得数十个位、位上的数相差7	得数在30~40之间	得数的个位上是0	得数十个位、位上的数相同
○ ○	○ ○	○ ○	○ ○	○ ○	○ ○	○ ○	○ ○	○ ○



$82-40$



$46+5$



$58+40$



$84-7$

八、求下面每组数的和与差。(12分)

<div>45 7</div>	<div>72 20</div>	<div>34 6</div>	<div>50 40</div>	<div>82 3</div>	<div>70 30</div>
和: <u>52</u>	<u>92</u>	<u>40</u>	<u>90</u>	<u>85</u>	<u>100</u>
差: <u>38</u>	<u>52</u>	<u>28</u>	<u>10</u>	<u>79</u>	<u>40</u>

九、在○里填上“+”或“-”。(7分)

$27 \bigoplus 4 = 31$

$53 \bigominus 7 = 46$

$34 \bigoplus 9 = 43$

$52 \bigoplus 20 = 80 \bigominus 8$

$31 \bigominus 2 = 19 \bigoplus 10$

十、生活中的数学。(共20分)

1.

我的书比你的多9本。



我有32本书。

小明

小芳

小明有多少本书?(4分)

$$\boxed{32} \bigoplus \boxed{9} = \boxed{41} \text{ (本)}$$

2.



小宝

这本书一共有90页。



我已经看了40页。



小兰

小兰还有多少页没有看?(3分)

$$\boxed{90} \bigominus \boxed{40} = \boxed{50} \text{ (页)}$$

3.



去年班里有43人。

今年转走了5人。



今年班里有多少人？(4 分)

$$\boxed{43} \ominus \boxed{5} = \boxed{38} \text{ (人)}$$

4.



36元/辆



9元/辆



20元/辆

(1) 一辆  比一辆  便宜多少元？(3 分)

$$\boxed{36} \ominus \boxed{20} = \boxed{16} \text{ (元)}$$

(2) 买一辆  和一辆  一共需要多少元？(3 分)


$$\boxed{36} \oplus \boxed{9} = \boxed{45} \text{ (元)}$$

(3) 请你提出一个数学问题并解答。(3 分)

【答案】买两辆  需要多少元？

$$20+20=40 \text{ (元)}$$

口答：买两辆  需要 40 元。(答案不唯一)

十一、(趣味题) 在下面的  里填上合适的数, 使每条线上三个数的和都是 90。(5 分)

